




Dùng các hình được cho để trả lời câu hỏi.

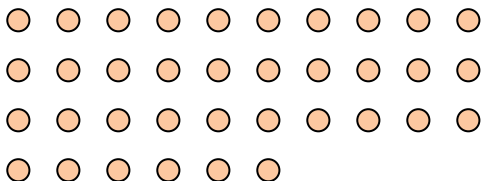
Vd) Có bao nhiêu nhóm 6 mà bạn có thể tạo thành với 18 hình bên dưới?




1) Có bao nhiêu nhóm 2 mà bạn có thể tạo thành với 26 hình bên dưới?




2) Có bao nhiêu nhóm 9 mà bạn có thể tạo thành với 36 hình bên dưới?



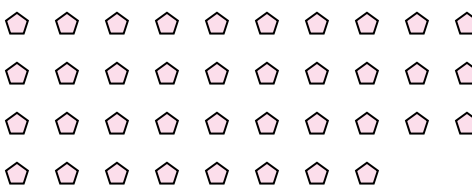
3) Có bao nhiêu nhóm 3 mà bạn có thể tạo thành với 24 hình bên dưới?



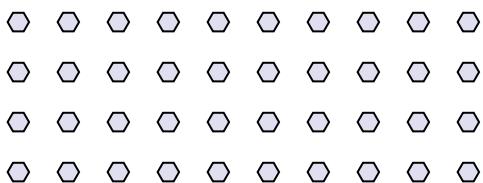
4) Có bao nhiêu nhóm 7 mà bạn có thể tạo thành với 35 hình bên dưới?




5) Có bao nhiêu nhóm 2 mà bạn có thể tạo thành với 38 hình bên dưới?



6) Có bao nhiêu nhóm 8 mà bạn có thể tạo thành với 40 hình bên dưới?



7) Có bao nhiêu nhóm 9 mà bạn có thể tạo thành với 36 hình bên dưới?



8) Có bao nhiêu nhóm 4 mà bạn có thể tạo thành với 40 hình bên dưới?




9) Có bao nhiêu nhóm 7 mà bạn có thể tạo thành với 35 hình bên dưới?



10) Có bao nhiêu nhóm 5 mà bạn có thể tạo thành với 10 hình bên dưới?



11) Có bao nhiêu nhóm 9 mà bạn có thể tạo thành với 27 hình bên dưới?



Câu trả lời

Vd. 3

1. _____

2. _____

3. _____

4. _____

5. _____

6. _____

7. _____

8. _____

9. _____

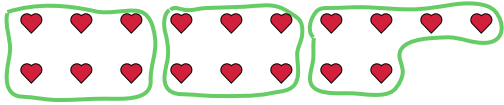
10. _____

11. _____



Dùng các hình được cho để trả lời câu hỏi.

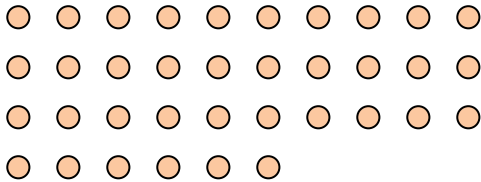
Vd) Có bao nhiêu nhóm 6 mà bạn có thể tạo thành với 18 hình bên dưới?




1) Có bao nhiêu nhóm 2 mà bạn có thể tạo thành với 26 hình bên dưới?




2) Có bao nhiêu nhóm 9 mà bạn có thể tạo thành với 36 hình bên dưới?



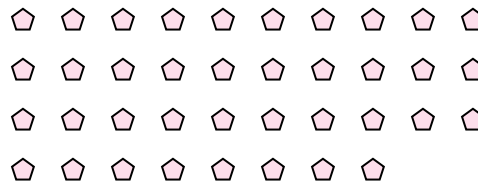
3) Có bao nhiêu nhóm 3 mà bạn có thể tạo thành với 24 hình bên dưới?



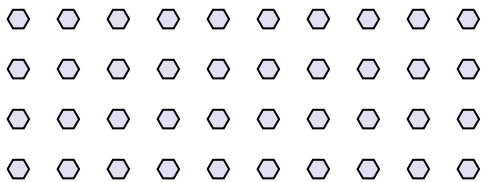
4) Có bao nhiêu nhóm 7 mà bạn có thể tạo thành với 35 hình bên dưới?




5) Có bao nhiêu nhóm 2 mà bạn có thể tạo thành với 38 hình bên dưới?



6) Có bao nhiêu nhóm 8 mà bạn có thể tạo thành với 40 hình bên dưới?



7) Có bao nhiêu nhóm 9 mà bạn có thể tạo thành với 36 hình bên dưới?



8) Có bao nhiêu nhóm 4 mà bạn có thể tạo thành với 40 hình bên dưới?




9) Có bao nhiêu nhóm 7 mà bạn có thể tạo thành với 35 hình bên dưới?



10) Có bao nhiêu nhóm 5 mà bạn có thể tạo thành với 10 hình bên dưới?



11) Có bao nhiêu nhóm 9 mà bạn có thể tạo thành với 27 hình bên dưới?



Câu trả lời

Vd. 3

1. 13

2. 4

3. 8

4. 5

5. 19

6. 5

7. 4

8. 10

9. 5

10. 2

11. 3