






Dùng các hình được cho để trả lời câu hỏi.


Vd) Có bao nhiêu nhóm 6 mà bạn có thể tạo thành với 18 hình bên dưới?



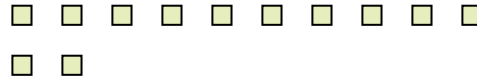
1) Có bao nhiêu nhóm 5 mà bạn có thể tạo thành với 40 hình bên dưới?




2) Có bao nhiêu nhóm 7 mà bạn có thể tạo thành với 21 hình bên dưới?



3) Có bao nhiêu nhóm 6 mà bạn có thể tạo thành với 12 hình bên dưới?



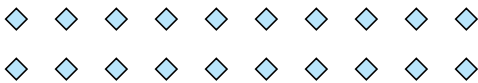
4) Có bao nhiêu nhóm 3 mà bạn có thể tạo thành với 24 hình bên dưới?



5) Có bao nhiêu nhóm 2 mà bạn có thể tạo thành với 4 hình bên dưới?




6) Có bao nhiêu nhóm 5 mà bạn có thể tạo thành với 20 hình bên dưới?



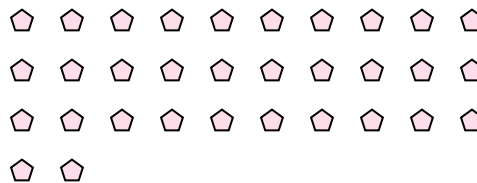
7) Có bao nhiêu nhóm 9 mà bạn có thể tạo thành với 18 hình bên dưới?



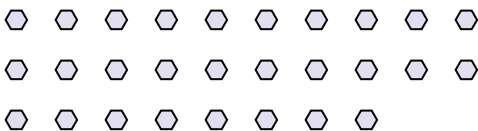
8) Có bao nhiêu nhóm 9 mà bạn có thể tạo thành với 36 hình bên dưới?



9) Có bao nhiêu nhóm 2 mà bạn có thể tạo thành với 32 hình bên dưới?



10) Có bao nhiêu nhóm 2 mà bạn có thể tạo thành với 28 hình bên dưới?



11) Có bao nhiêu nhóm 8 mà bạn có thể tạo thành với 24 hình bên dưới?



**Câu trả lời**

Vd. 3

1. 8

2. 3

3. 2

4. 8

5. 2

6. 4

7. 2

8. 4

9. 16

10. 14

11. 3