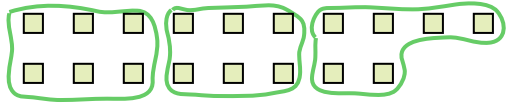





Dùng các hình được cho để trả lời câu hỏi.


Vd) Có bao nhiêu nhóm 6 mà bạn có thể tạo thành với 18 hình bên dưới?




1) Có bao nhiêu nhóm 3 mà bạn có thể tạo thành với 30 hình bên dưới?



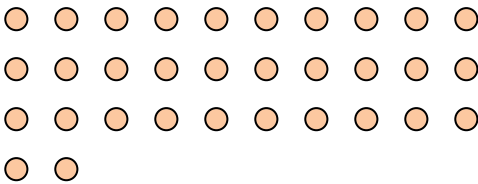
2) Có bao nhiêu nhóm 4 mà bạn có thể tạo thành với 28 hình bên dưới?



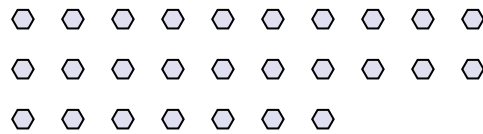
3) Có bao nhiêu nhóm 2 mà bạn có thể tạo thành với 40 hình bên dưới?



4) Có bao nhiêu nhóm 4 mà bạn có thể tạo thành với 32 hình bên dưới?



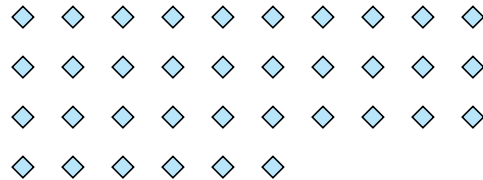
5) Có bao nhiêu nhóm 9 mà bạn có thể tạo thành với 27 hình bên dưới?




6) Có bao nhiêu nhóm 6 mà bạn có thể tạo thành với 36 hình bên dưới?



7) Có bao nhiêu nhóm 3 mà bạn có thể tạo thành với 36 hình bên dưới?



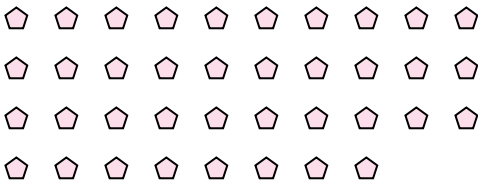
8) Có bao nhiêu nhóm 6 mà bạn có thể tạo thành với 36 hình bên dưới?



9) Có bao nhiêu nhóm 4 mà bạn có thể tạo thành với 36 hình bên dưới?



10) Có bao nhiêu nhóm 2 mà bạn có thể tạo thành với 38 hình bên dưới?



11) Có bao nhiêu nhóm 7 mà bạn có thể tạo thành với 14 hình bên dưới?



Câu trả lời

Vd. 3

1. _____

2. _____

3. _____

4. _____

5. _____

6. _____

7. _____

8. _____

9. _____

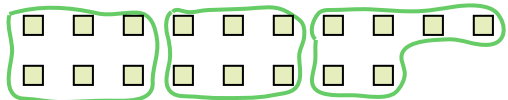
10. _____

11. _____




Dùng các hình được cho để trả lời câu hỏi.


Vd) Có bao nhiêu nhóm 6 mà bạn có thể tạo thành với 18 hình bên dưới?




1) Có bao nhiêu nhóm 3 mà bạn có thể tạo thành với 30 hình bên dưới?



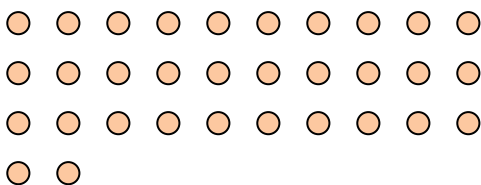
2) Có bao nhiêu nhóm 4 mà bạn có thể tạo thành với 28 hình bên dưới?



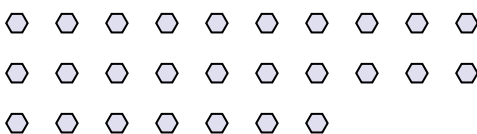
3) Có bao nhiêu nhóm 2 mà bạn có thể tạo thành với 40 hình bên dưới?



4) Có bao nhiêu nhóm 4 mà bạn có thể tạo thành với 32 hình bên dưới?




5) Có bao nhiêu nhóm 9 mà bạn có thể tạo thành với 27 hình bên dưới?




6) Có bao nhiêu nhóm 6 mà bạn có thể tạo thành với 36 hình bên dưới?



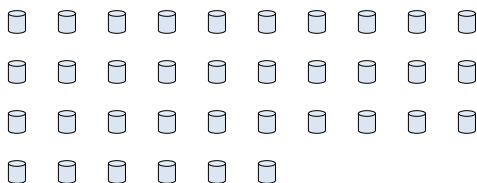
7) Có bao nhiêu nhóm 3 mà bạn có thể tạo thành với 36 hình bên dưới?




8) Có bao nhiêu nhóm 6 mà bạn có thể tạo thành với 36 hình bên dưới?



9) Có bao nhiêu nhóm 4 mà bạn có thể tạo thành với 36 hình bên dưới?



10) Có bao nhiêu nhóm 2 mà bạn có thể tạo thành với 38 hình bên dưới?



11) Có bao nhiêu nhóm 7 mà bạn có thể tạo thành với 14 hình bên dưới?



Câu trả lời

Vd. 3

1. 10

2. 7

3. 20

4. 8

5. 3

6. 6

7. 12

8. 6

9. 9

10. 19

11. 2