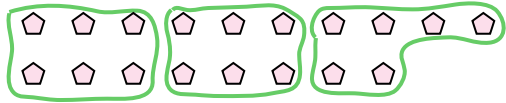


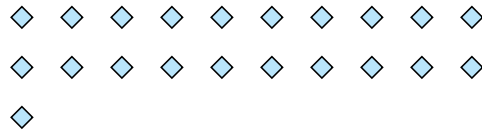


Dùng các hình được cho để trả lời câu hỏi.

Vd) Có bao nhiêu nhóm 6 mà bạn có thể tạo thành với 18 hình bên dưới?



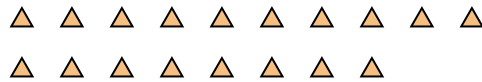
1) Có bao nhiêu nhóm 7 mà bạn có thể tạo thành với 21 hình bên dưới?



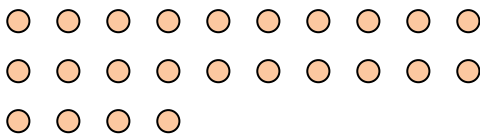
2) Có bao nhiêu nhóm 3 mà bạn có thể tạo thành với 6 hình bên dưới?



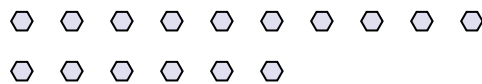
3) Có bao nhiêu nhóm 6 mà bạn có thể tạo thành với 18 hình bên dưới?




4) Có bao nhiêu nhóm 8 mà bạn có thể tạo thành với 24 hình bên dưới?




5) Có bao nhiêu nhóm 8 mà bạn có thể tạo thành với 16 hình bên dưới?



6) Có bao nhiêu nhóm 4 mà bạn có thể tạo thành với 16 hình bên dưới?



7) Có bao nhiêu nhóm 7 mà bạn có thể tạo thành với 35 hình bên dưới?



8) Có bao nhiêu nhóm 3 mà bạn có thể tạo thành với 15 hình bên dưới?



9) Có bao nhiêu nhóm 2 mà bạn có thể tạo thành với 18 hình bên dưới?



10) Có bao nhiêu nhóm 4 mà bạn có thể tạo thành với 8 hình bên dưới?



11) Có bao nhiêu nhóm 7 mà bạn có thể tạo thành với 14 hình bên dưới?



Câu trả lời

Vd. 3

1. \_\_\_\_\_

2. \_\_\_\_\_

3. \_\_\_\_\_

4. \_\_\_\_\_

5. \_\_\_\_\_

6. \_\_\_\_\_

7. \_\_\_\_\_

8. \_\_\_\_\_

9. \_\_\_\_\_

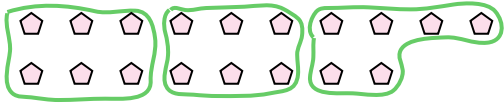
10. \_\_\_\_\_

11. \_\_\_\_\_

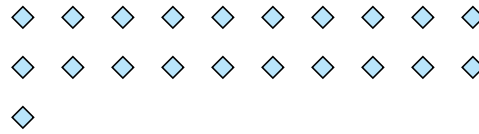


Dùng các hình được cho để trả lời câu hỏi.

Vd) Có bao nhiêu nhóm 6 mà bạn có thể tạo thành với 18 hình bên dưới?



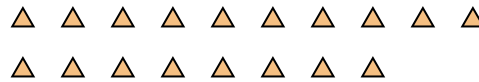
1) Có bao nhiêu nhóm 7 mà bạn có thể tạo thành với 21 hình bên dưới?



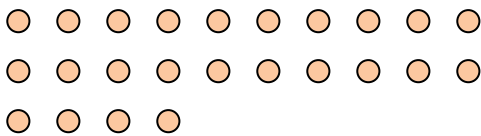
2) Có bao nhiêu nhóm 3 mà bạn có thể tạo thành với 6 hình bên dưới?



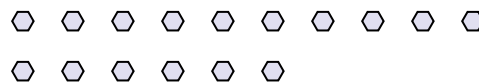
3) Có bao nhiêu nhóm 6 mà bạn có thể tạo thành với 18 hình bên dưới?




4) Có bao nhiêu nhóm 8 mà bạn có thể tạo thành với 24 hình bên dưới?




5) Có bao nhiêu nhóm 8 mà bạn có thể tạo thành với 16 hình bên dưới?



6) Có bao nhiêu nhóm 4 mà bạn có thể tạo thành với 16 hình bên dưới?



7) Có bao nhiêu nhóm 7 mà bạn có thể tạo thành với 35 hình bên dưới?



8) Có bao nhiêu nhóm 3 mà bạn có thể tạo thành với 15 hình bên dưới?



9) Có bao nhiêu nhóm 2 mà bạn có thể tạo thành với 18 hình bên dưới?



10) Có bao nhiêu nhóm 4 mà bạn có thể tạo thành với 8 hình bên dưới?



11) Có bao nhiêu nhóm 7 mà bạn có thể tạo thành với 14 hình bên dưới?



**Câu trả lời**

Vd. 3

1. 3

2. 2

3. 3

4. 3

5. 2

6. 4

7. 5

8. 5

9. 9

10. 2

11. 2