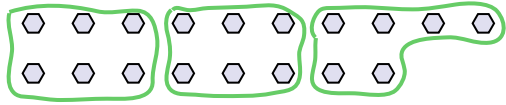




Dùng các hình được cho để trả lời câu hỏi.


Vd) Có bao nhiêu nhóm 6 mà bạn có thể tạo thành với 18 hình bên dưới?



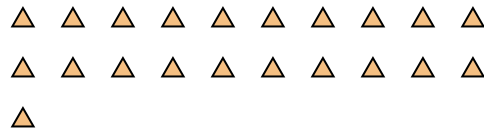
1) Có bao nhiêu nhóm 3 mà bạn có thể tạo thành với 27 hình bên dưới?




2) Có bao nhiêu nhóm 3 mà bạn có thể tạo thành với 33 hình bên dưới?



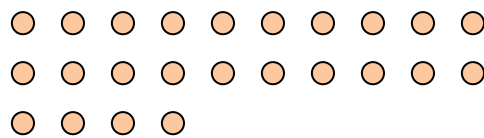
3) Có bao nhiêu nhóm 7 mà bạn có thể tạo thành với 21 hình bên dưới?



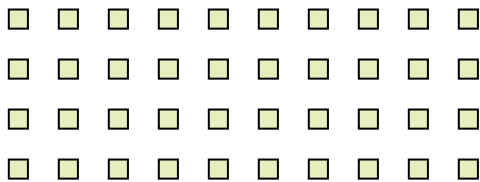
4) Có bao nhiêu nhóm 7 mà bạn có thể tạo thành với 14 hình bên dưới?




5) Có bao nhiêu nhóm 8 mà bạn có thể tạo thành với 24 hình bên dưới?




6) Có bao nhiêu nhóm 4 mà bạn có thể tạo thành với 40 hình bên dưới?



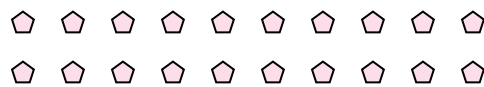
7) Có bao nhiêu nhóm 8 mà bạn có thể tạo thành với 32 hình bên dưới?



8) Có bao nhiêu nhóm 7 mà bạn có thể tạo thành với 28 hình bên dưới?



9) Có bao nhiêu nhóm 5 mà bạn có thể tạo thành với 20 hình bên dưới?



10) Có bao nhiêu nhóm 4 mà bạn có thể tạo thành với 12 hình bên dưới?



11) Có bao nhiêu nhóm 7 mà bạn có thể tạo thành với 21 hình bên dưới?



Câu trả lời

Vd. 3

1. 9

2. 11

3. 3

4. 2

5. 3

6. 10

7. 4

8. 4

9. 4

10. 3

11. 3