

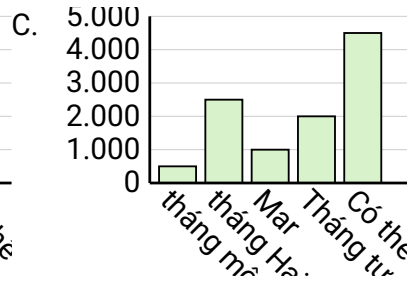
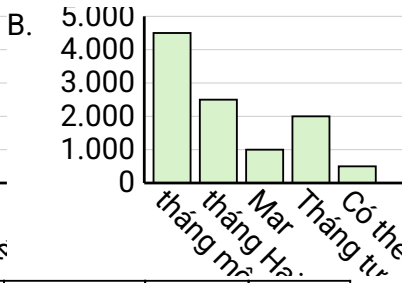
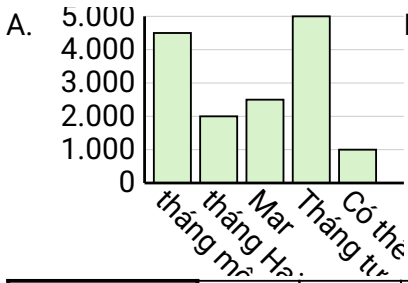


Xác định biểu đồ nào (A, B hay C) là phù hợp nhất với thông tin trong bảng.

Câu trả lời

1)

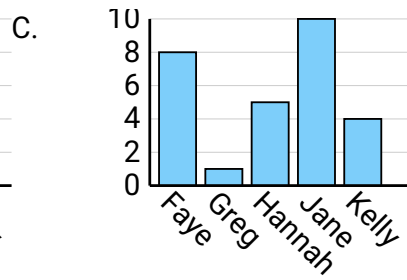
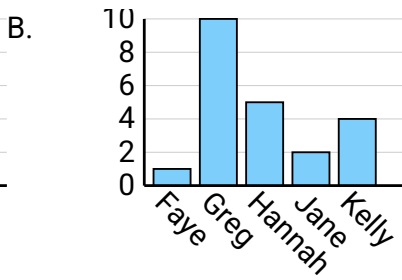
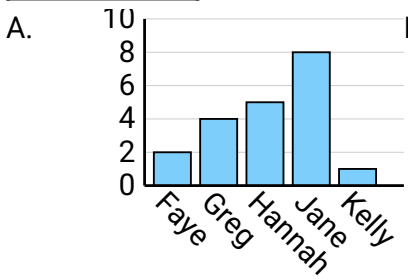
Bán hàng	tháng một	tháng Hai	Mar	Tháng tư	Có thể
Tháng	4.500	2.500	1.000	2.000	500



1. _____
2. _____
3. _____
4. _____

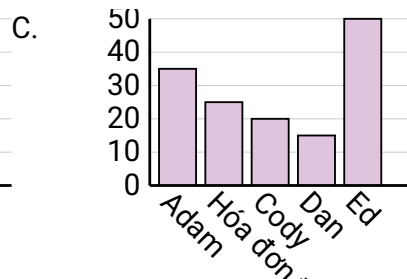
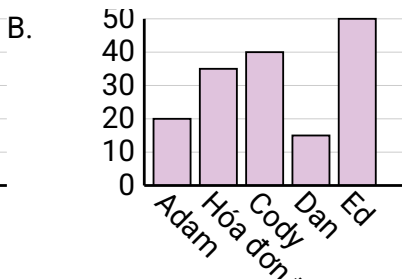
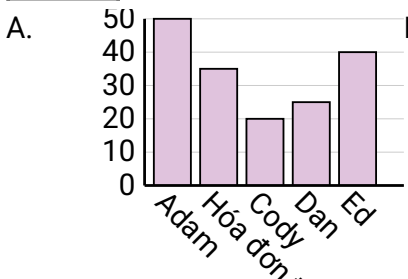
2)

Tên	Faye	Greg	Hannah	Jane	Kelly
Kỳ đã sống	2	4	5	8	1



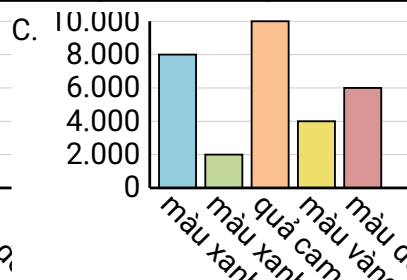
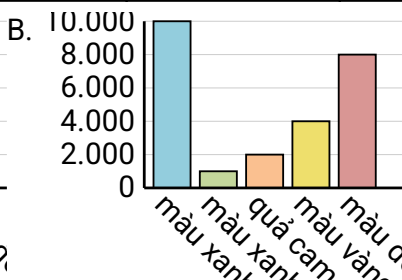
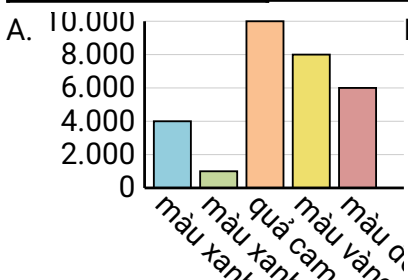
3)

Tên	Adam	Hóa đơn thanh toán	Cody	Dan	Ed
Điểm	20	35	40	15	50



4)

Màu sắc ưa thích	màu xanh dương	màu xanh lá	quả cam	màu vàng	màu đỏ
Mọi người	10.000	1.000	2.000	4.000	8.000



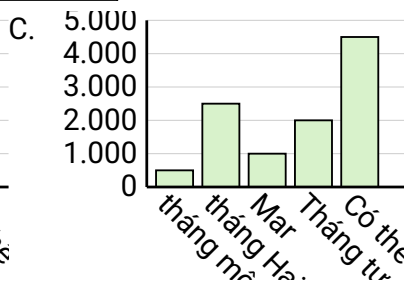
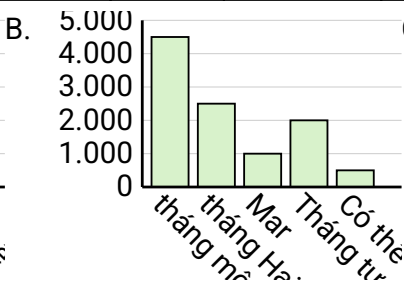
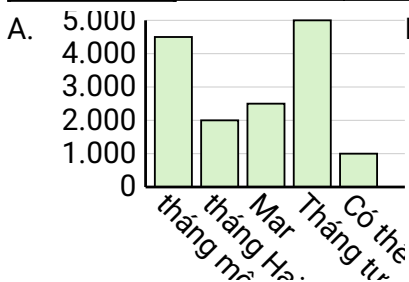


Xác định biểu đồ nào (A, B hay C) là phù hợp nhất với thông tin trong bảng.

Câu trả lời

1)

Bán hàng	tháng một	tháng Hai	Mar	Tháng tư	Có thể
Tháng	4.500	2.500	1.000	2.000	500



1. **B**

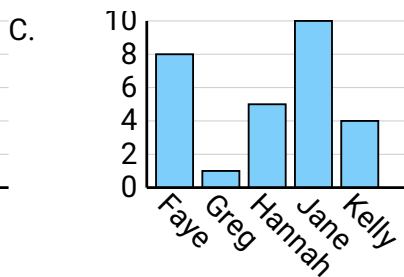
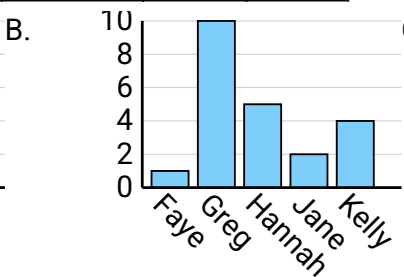
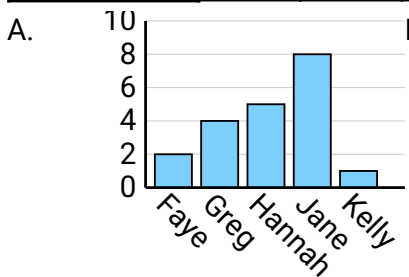
2. **A**

3. **B**

4. **B**

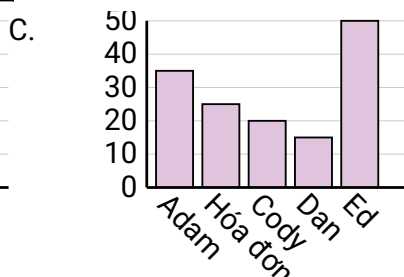
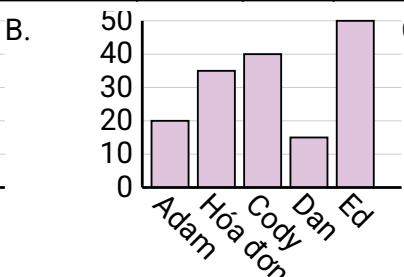
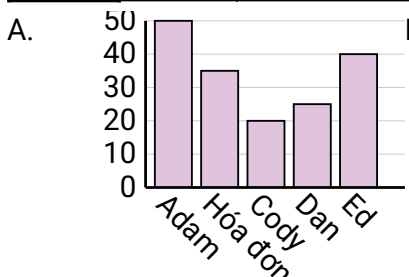
2)

Tên	Faye	Greg	Hannah	Jane	Kelly
Kỳ đã sống	2	4	5	8	1



3)

Tên	Adam	Hóa đơn thanh toán	Cody	Dan	Ed
Điểm	20	35	40	15	50



4)

Màu sắc ưa thích	màu xanh dương	màu xanh lá	quả cam	màu vàng	màu đỏ
Mọi người	10.000	1.000	2.000	4.000	8.000

