



Giải các câu hỏi.

- 1) Hình chữ nhật bên dưới có các kích thước 1×10 . Tạo một hình chữ nhật có cùng diện tích, nhưng khác chu vi.



- 2) Hình chữ nhật bên dưới có các kích thước 5×8 . Tạo một hình chữ nhật có cùng diện tích, nhưng khác chu vi.



- 3) Hình chữ nhật bên dưới có các kích thước 1×4 . Tạo một hình chữ nhật có cùng diện tích, nhưng khác chu vi.



- 4) Hình chữ nhật bên dưới có các kích thước 2×9 . Tạo một hình chữ nhật có cùng diện tích, nhưng khác chu vi.



- 5) Hình chữ nhật bên dưới có các kích thước 2×3 . Tạo một hình chữ nhật có cùng diện tích, nhưng khác chu vi.



Câu trả lời

1. _____

2. _____



3. _____

4. _____

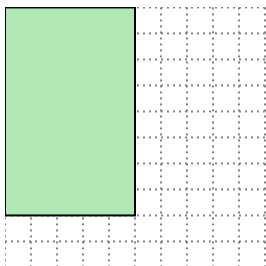
5. _____

**Giải các câu hỏi.**


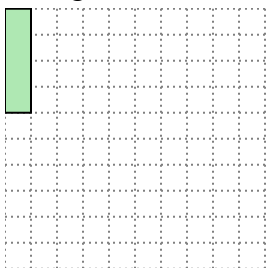
- 1) Hình chữ nhật bên dưới có các kích thước 1×10 . Tạo một hình chữ nhật có cùng diện tích, nhưng khác chu vi.

 2×5


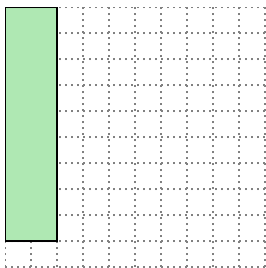
- 2) Hình chữ nhật bên dưới có các kích thước 5×8 . Tạo một hình chữ nhật có cùng diện tích, nhưng khác chu vi.

 4×10

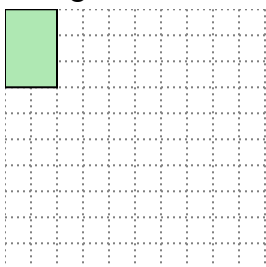
- 3) Hình chữ nhật bên dưới có các kích thước 1×4 . Tạo một hình chữ nhật có cùng diện tích, nhưng khác chu vi.

 2×2

- 4) Hình chữ nhật bên dưới có các kích thước 2×9 . Tạo một hình chữ nhật có cùng diện tích, nhưng khác chu vi.

 3×6

- 5) Hình chữ nhật bên dưới có các kích thước 2×3 . Tạo một hình chữ nhật có cùng diện tích, nhưng khác chu vi.

 1×6 **Câu trả lời**1. 2×5 2. 4×10 3. 2×2 4. 3×6 5. 1×6