



Giải các câu hỏi.

- 1) Hình chữ nhật bên dưới có các kích thước 4×10 . Tạo một hình chữ nhật có cùng diện tích, nhưng khác chu vi.



- 2) Hình chữ nhật bên dưới có các kích thước 3×3 . Tạo một hình chữ nhật có cùng diện tích, nhưng khác chu vi.



- 3) Hình chữ nhật bên dưới có các kích thước 3×6 . Tạo một hình chữ nhật có cùng diện tích, nhưng khác chu vi.



- 4) Hình chữ nhật bên dưới có các kích thước 2×8 . Tạo một hình chữ nhật có cùng diện tích, nhưng khác chu vi.



- 5) Hình chữ nhật bên dưới có các kích thước 2×4 . Tạo một hình chữ nhật có cùng diện tích, nhưng khác chu vi.



Câu trả lời

1. _____

2. _____

3. _____


4. _____

5. _____




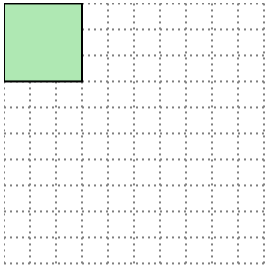
Giải các câu hỏi.

- 1) Hình chữ nhật bên dưới có các kích thước 4×10 . Tạo một hình chữ nhật có cùng diện tích, nhưng khác chu vi.




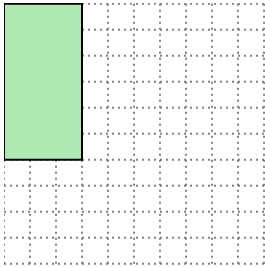
5×8

- 2) Hình chữ nhật bên dưới có các kích thước 3×3 . Tạo một hình chữ nhật có cùng diện tích, nhưng khác chu vi.




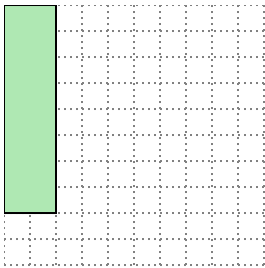
1×9

- 3) Hình chữ nhật bên dưới có các kích thước 3×6 . Tạo một hình chữ nhật có cùng diện tích, nhưng khác chu vi.




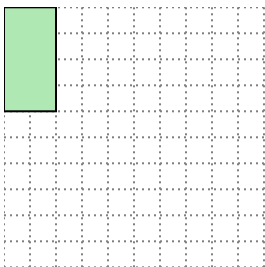
2×9

- 4) Hình chữ nhật bên dưới có các kích thước 2×8 . Tạo một hình chữ nhật có cùng diện tích, nhưng khác chu vi.



4×4

- 5) Hình chữ nhật bên dưới có các kích thước 2×4 . Tạo một hình chữ nhật có cùng diện tích, nhưng khác chu vi.



1×8

Câu trả lời

1. 5×8

2. 1×9

3. 2×9

4. 4×4

5. 1×8