



Giải các câu hỏi.

- 1) Hình chữ nhật bên dưới có các kích thước 2×6 . Tạo một hình chữ nhật có cùng diện tích, nhưng khác chu vi.



- 2) Hình chữ nhật bên dưới có các kích thước 2×2 . Tạo một hình chữ nhật có cùng diện tích, nhưng khác chu vi.



- 3) Hình chữ nhật bên dưới có các kích thước 2×3 . Tạo một hình chữ nhật có cùng diện tích, nhưng khác chu vi.



- 4) Hình chữ nhật bên dưới có các kích thước 5×8 . Tạo một hình chữ nhật có cùng diện tích, nhưng khác chu vi.



- 5) Hình chữ nhật bên dưới có các kích thước 3×8 . Tạo một hình chữ nhật có cùng diện tích, nhưng khác chu vi.



Câu trả lời

1. _____

2. _____

3. _____


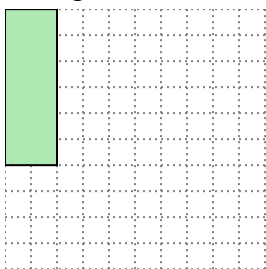
4. _____

5. _____



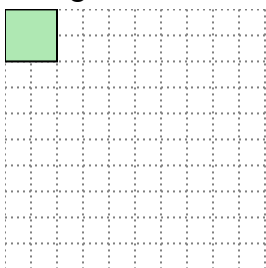
Giải các câu hỏi.

- 1) Hình chữ nhật bên dưới có các kích thước 2×6 . Tạo một hình chữ nhật có cùng diện tích, nhưng khác chu vi.




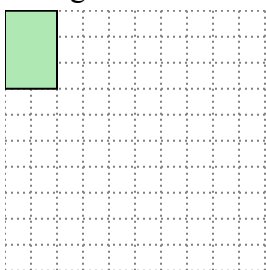
3×4

- 2) Hình chữ nhật bên dưới có các kích thước 2×2 . Tạo một hình chữ nhật có cùng diện tích, nhưng khác chu vi.




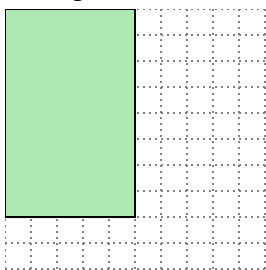
1×4

- 3) Hình chữ nhật bên dưới có các kích thước 2×3 . Tạo một hình chữ nhật có cùng diện tích, nhưng khác chu vi.




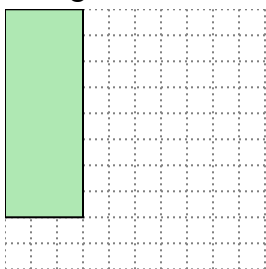
1×6

- 4) Hình chữ nhật bên dưới có các kích thước 5×8 . Tạo một hình chữ nhật có cùng diện tích, nhưng khác chu vi.



4×10

- 5) Hình chữ nhật bên dưới có các kích thước 3×8 . Tạo một hình chữ nhật có cùng diện tích, nhưng khác chu vi.



4×6

Câu trả lời

1. 3×4

2. 1×4

3. 1×6

4. 4×10

5. 4×6