



Giải các câu hỏi.

- 1) Hình chữ nhật bên dưới có các kích thước 3×6 . Tạo một hình chữ nhật có cùng diện tích, nhưng khác chu vi.



- 2) Hình chữ nhật bên dưới có các kích thước 4×5 . Tạo một hình chữ nhật có cùng diện tích, nhưng khác chu vi.



- 3) Hình chữ nhật bên dưới có các kích thước 3×10 . Tạo một hình chữ nhật có cùng diện tích, nhưng khác chu vi.



- 4) Hình chữ nhật bên dưới có các kích thước 1×6 . Tạo một hình chữ nhật có cùng diện tích, nhưng khác chu vi.



- 5) Hình chữ nhật bên dưới có các kích thước 2×6 . Tạo một hình chữ nhật có cùng diện tích, nhưng khác chu vi.



Câu trả lời

1. _____

2. _____

3. _____


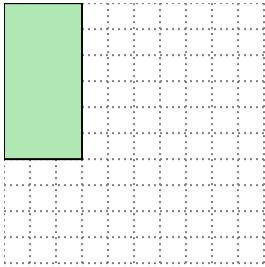
4. _____

5. _____




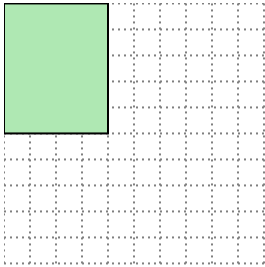
Giải các câu hỏi.

- 1) Hình chữ nhật bên dưới có các kích thước 3×6 . Tạo một hình chữ nhật có cùng diện tích, nhưng khác chu vi.




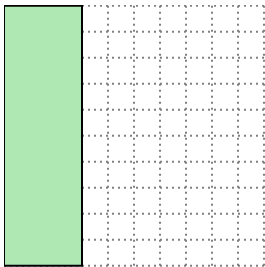
2×9

- 2) Hình chữ nhật bên dưới có các kích thước 4×5 . Tạo một hình chữ nhật có cùng diện tích, nhưng khác chu vi.




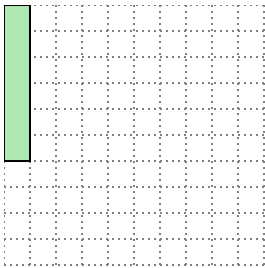
2×10

- 3) Hình chữ nhật bên dưới có các kích thước 3×10 . Tạo một hình chữ nhật có cùng diện tích, nhưng khác chu vi.




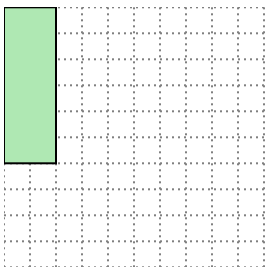
5×6

- 4) Hình chữ nhật bên dưới có các kích thước 1×6 . Tạo một hình chữ nhật có cùng diện tích, nhưng khác chu vi.



2×3

- 5) Hình chữ nhật bên dưới có các kích thước 2×6 . Tạo một hình chữ nhật có cùng diện tích, nhưng khác chu vi.



3×4

Câu trả lời

1. 2×9

2. 2×10

3. 5×6

4. 2×3

5. 3×4