



Giải các câu hỏi.

- 1) Hình chữ nhật bên dưới có các kích thước 3×6 . Tạo một hình chữ nhật có cùng diện tích, nhưng khác chu vi.



- 2) Hình chữ nhật bên dưới có các kích thước 4×9 . Tạo một hình chữ nhật có cùng diện tích, nhưng khác chu vi.



- 3) Hình chữ nhật bên dưới có các kích thước 3×8 . Tạo một hình chữ nhật có cùng diện tích, nhưng khác chu vi.



- 4) Hình chữ nhật bên dưới có các kích thước 1×8 . Tạo một hình chữ nhật có cùng diện tích, nhưng khác chu vi.



- 5) Hình chữ nhật bên dưới có các kích thước 2×3 . Tạo một hình chữ nhật có cùng diện tích, nhưng khác chu vi.



Câu trả lời

1. _____

2. _____

3. _____


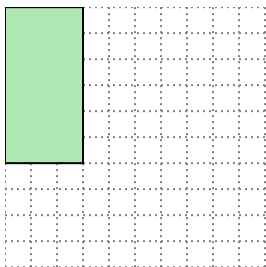
4. _____

5. _____



Giải các câu hỏi.

- 1) Hình chữ nhật bên dưới có các kích thước 3×6 . Tạo một hình chữ nhật có cùng diện tích, nhưng khác chu vi.




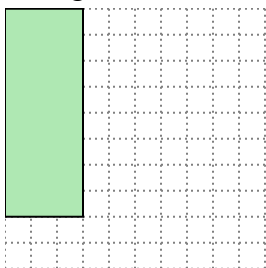
2×9

- 2) Hình chữ nhật bên dưới có các kích thước 4×9 . Tạo một hình chữ nhật có cùng diện tích, nhưng khác chu vi.




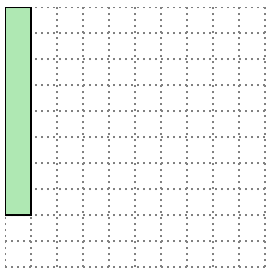
6×6

- 3) Hình chữ nhật bên dưới có các kích thước 3×8 . Tạo một hình chữ nhật có cùng diện tích, nhưng khác chu vi.




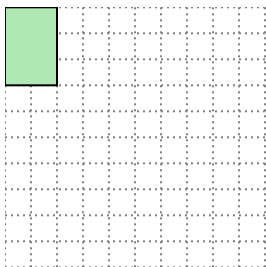
4×6

- 4) Hình chữ nhật bên dưới có các kích thước 1×8 . Tạo một hình chữ nhật có cùng diện tích, nhưng khác chu vi.



2×4

- 5) Hình chữ nhật bên dưới có các kích thước 2×3 . Tạo một hình chữ nhật có cùng diện tích, nhưng khác chu vi.



1×6

Câu trả lời

1. 2×9

2. 6×6

3. 4×6

4. 2×4

5. 1×6