



Giải các câu hỏi.

- 1) Hình chữ nhật bên dưới có các kích thước 3×8 . Tạo một hình chữ nhật có cùng diện tích, nhưng khác chu vi.



- 2) Hình chữ nhật bên dưới có các kích thước 1×10 . Tạo một hình chữ nhật có cùng diện tích, nhưng khác chu vi.



- 3) Hình chữ nhật bên dưới có các kích thước 2×2 . Tạo một hình chữ nhật có cùng diện tích, nhưng khác chu vi.



- 4) Hình chữ nhật bên dưới có các kích thước 4×10 . Tạo một hình chữ nhật có cùng diện tích, nhưng khác chu vi.



- 5) Hình chữ nhật bên dưới có các kích thước 3×3 . Tạo một hình chữ nhật có cùng diện tích, nhưng khác chu vi.



Câu trả lời

1. _____

2. _____

3. _____


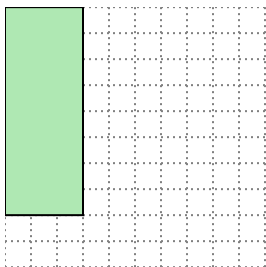
4. _____

5. _____



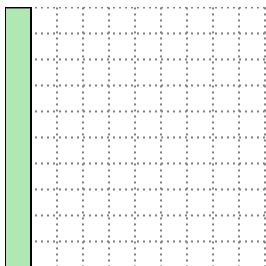
Giải các câu hỏi.

- 1) Hình chữ nhật bên dưới có các kích thước 3×8 . Tạo một hình chữ nhật có cùng diện tích, nhưng khác chu vi.



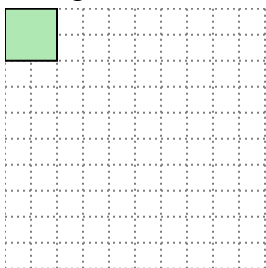
4×6

- 2) Hình chữ nhật bên dưới có các kích thước 1×10 . Tạo một hình chữ nhật có cùng diện tích, nhưng khác chu vi.





2×5

- 3) Hình chữ nhật bên dưới có các kích thước 2×2 . Tạo một hình chữ nhật có cùng diện tích, nhưng khác chu vi.



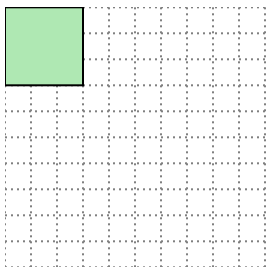
1×4

- 4) Hình chữ nhật bên dưới có các kích thước 4×10 . Tạo một hình chữ nhật có cùng diện tích, nhưng khác chu vi.



5×8

- 5) Hình chữ nhật bên dưới có các kích thước 3×3 . Tạo một hình chữ nhật có cùng diện tích, nhưng khác chu vi.



1×9

Câu trả lời

1. **4×6**

2. **2×5**

3. **1×4**

4. **5×8**

5. **1×9**