



Giải các câu hỏi.

- 1) Hình chữ nhật bên dưới có các kích thước 1×10 . Tạo một hình chữ nhật có cùng diện tích, nhưng khác chu vi.




- 2) Hình chữ nhật bên dưới có các kích thước 2×4 . Tạo một hình chữ nhật có cùng diện tích, nhưng khác chu vi.



- 3) Hình chữ nhật bên dưới có các kích thước 2×3 . Tạo một hình chữ nhật có cùng diện tích, nhưng khác chu vi.



- 4) Hình chữ nhật bên dưới có các kích thước 5×8 . Tạo một hình chữ nhật có cùng diện tích, nhưng khác chu vi.



- 5) Hình chữ nhật bên dưới có các kích thước 3×6 . Tạo một hình chữ nhật có cùng diện tích, nhưng khác chu vi.



Câu trả lời

1. _____

2. _____

3. _____


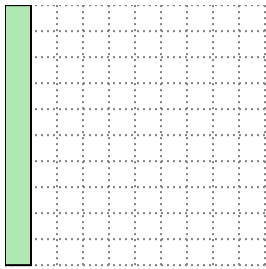
4. _____

5. _____




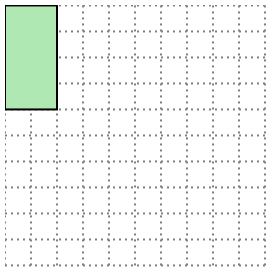
Giải các câu hỏi.

- 1) Hình chữ nhật bên dưới có các kích thước 1×10 . Tạo một hình chữ nhật có cùng diện tích, nhưng khác chu vi.




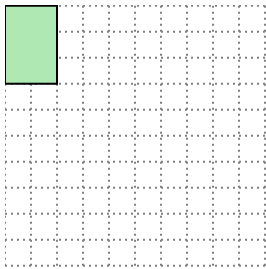
2×5

- 2) Hình chữ nhật bên dưới có các kích thước 2×4 . Tạo một hình chữ nhật có cùng diện tích, nhưng khác chu vi.




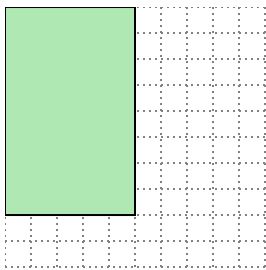
1×8

- 3) Hình chữ nhật bên dưới có các kích thước 2×3 . Tạo một hình chữ nhật có cùng diện tích, nhưng khác chu vi.




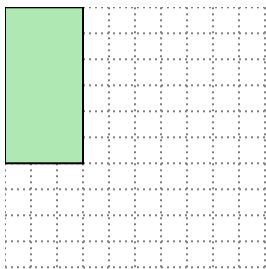
1×6

- 4) Hình chữ nhật bên dưới có các kích thước 5×8 . Tạo một hình chữ nhật có cùng diện tích, nhưng khác chu vi.



4×10

- 5) Hình chữ nhật bên dưới có các kích thước 3×6 . Tạo một hình chữ nhật có cùng diện tích, nhưng khác chu vi.



2×9

Câu trả lời

1. 2×5

2. 1×8

3. 1×6

4. 4×10

5. 2×9