



Giải các câu hỏi.

- 1) Hình chữ nhật bên dưới có các kích thước 1×8 . Tạo một hình chữ nhật có cùng diện tích, nhưng khác chu vi.



- 2) Hình chữ nhật bên dưới có các kích thước 3×4 . Tạo một hình chữ nhật có cùng diện tích, nhưng khác chu vi.



- 3) Hình chữ nhật bên dưới có các kích thước 4×5 . Tạo một hình chữ nhật có cùng diện tích, nhưng khác chu vi.



- 4) Hình chữ nhật bên dưới có các kích thước 2×5 . Tạo một hình chữ nhật có cùng diện tích, nhưng khác chu vi.



- 5) Hình chữ nhật bên dưới có các kích thước 1×4 . Tạo một hình chữ nhật có cùng diện tích, nhưng khác chu vi.



Câu trả lời

1. _____

2. _____

3. _____


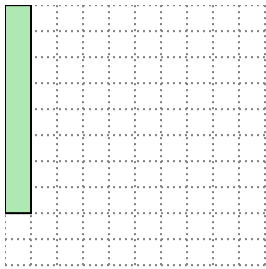
4. _____

5. _____




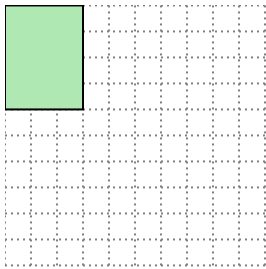
Giải các câu hỏi.

- 1) Hình chữ nhật bên dưới có các kích thước 1×8 . Tạo một hình chữ nhật có cùng diện tích, nhưng khác chu vi.




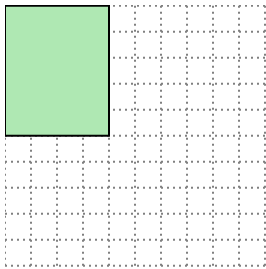
2×4

- 2) Hình chữ nhật bên dưới có các kích thước 3×4 . Tạo một hình chữ nhật có cùng diện tích, nhưng khác chu vi.




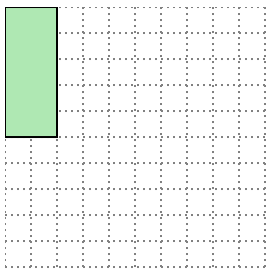
2×6

- 3) Hình chữ nhật bên dưới có các kích thước 4×5 . Tạo một hình chữ nhật có cùng diện tích, nhưng khác chu vi.





2×10

- 4) Hình chữ nhật bên dưới có các kích thước 2×5 . Tạo một hình chữ nhật có cùng diện tích, nhưng khác chu vi.



1×10

- 5) Hình chữ nhật bên dưới có các kích thước 1×4 . Tạo một hình chữ nhật có cùng diện tích, nhưng khác chu vi.



2×2

Câu trả lời

1. 2×4

2. 2×6

3. 2×10

4. 1×10

5. 2×2