



Giải các câu hỏi.

- 1) Hình chữ nhật bên dưới có các kích thước 2×9 . Tạo một hình chữ nhật có cùng diện tích, nhưng khác chu vi.




- 2) Hình chữ nhật bên dưới có các kích thước 2×8 . Tạo một hình chữ nhật có cùng diện tích, nhưng khác chu vi.



- 3) Hình chữ nhật bên dưới có các kích thước 5×6 . Tạo một hình chữ nhật có cùng diện tích, nhưng khác chu vi.



- 4) Hình chữ nhật bên dưới có các kích thước 5×8 . Tạo một hình chữ nhật có cùng diện tích, nhưng khác chu vi.



- 5) Hình chữ nhật bên dưới có các kích thước 2×4 . Tạo một hình chữ nhật có cùng diện tích, nhưng khác chu vi.



Câu trả lời

1. _____

2. _____

3. _____


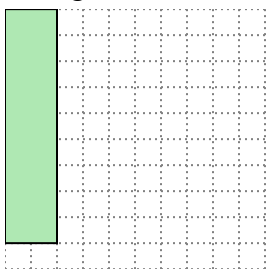
4. _____

5. _____




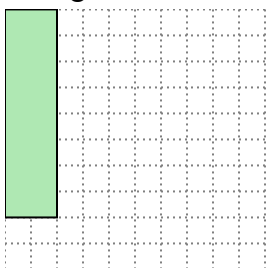
Giải các câu hỏi.

- 1) Hình chữ nhật bên dưới có các kích thước 2×9 . Tạo một hình chữ nhật có cùng diện tích, nhưng khác chu vi.




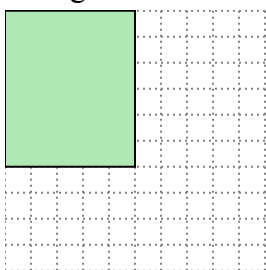
3×6

- 2) Hình chữ nhật bên dưới có các kích thước 2×8 . Tạo một hình chữ nhật có cùng diện tích, nhưng khác chu vi.




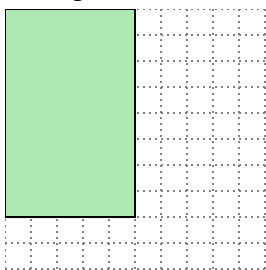
4×4

- 3) Hình chữ nhật bên dưới có các kích thước 5×6 . Tạo một hình chữ nhật có cùng diện tích, nhưng khác chu vi.




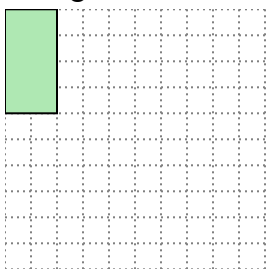
3×10

- 4) Hình chữ nhật bên dưới có các kích thước 5×8 . Tạo một hình chữ nhật có cùng diện tích, nhưng khác chu vi.



4×10

- 5) Hình chữ nhật bên dưới có các kích thước 2×4 . Tạo một hình chữ nhật có cùng diện tích, nhưng khác chu vi.



1×8

Câu trả lời

1. 3×6

2. 4×4

3. 3×10

4. 4×10

5. 1×8