



Giải các câu hỏi.

- 1) Hình chữ nhật bên dưới có các kích thước 3×3 . Tạo một hình chữ nhật có cùng diện tích, nhưng khác chu vi.



- 2) Hình chữ nhật bên dưới có các kích thước 2×9 . Tạo một hình chữ nhật có cùng diện tích, nhưng khác chu vi.



- 3) Hình chữ nhật bên dưới có các kích thước 4×5 . Tạo một hình chữ nhật có cùng diện tích, nhưng khác chu vi.



- 4) Hình chữ nhật bên dưới có các kích thước 2×3 . Tạo một hình chữ nhật có cùng diện tích, nhưng khác chu vi.



- 5) Hình chữ nhật bên dưới có các kích thước 2×4 . Tạo một hình chữ nhật có cùng diện tích, nhưng khác chu vi.



Câu trả lời

1. _____

2. _____

3. _____


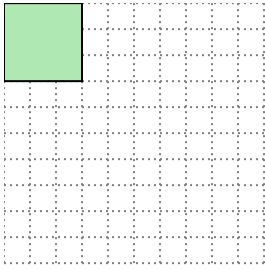
4. _____

5. _____




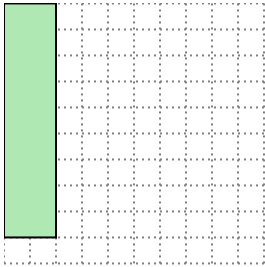
Giải các câu hỏi.

- 1) Hình chữ nhật bên dưới có các kích thước 3×3 . Tạo một hình chữ nhật có cùng diện tích, nhưng khác chu vi.




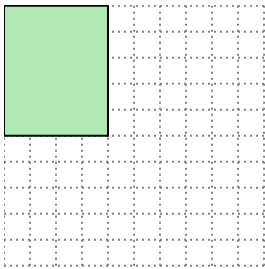
1×9

- 2) Hình chữ nhật bên dưới có các kích thước 2×9 . Tạo một hình chữ nhật có cùng diện tích, nhưng khác chu vi.




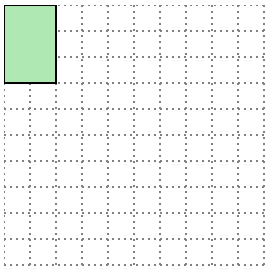
3×6

- 3) Hình chữ nhật bên dưới có các kích thước 4×5 . Tạo một hình chữ nhật có cùng diện tích, nhưng khác chu vi.




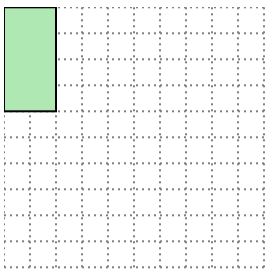
2×10

- 4) Hình chữ nhật bên dưới có các kích thước 2×3 . Tạo một hình chữ nhật có cùng diện tích, nhưng khác chu vi.



1×6

- 5) Hình chữ nhật bên dưới có các kích thước 2×4 . Tạo một hình chữ nhật có cùng diện tích, nhưng khác chu vi.



1×8

Câu trả lời

1. 1×9

2. 3×6

3. 2×10

4. 1×6

5. 1×8