



Giải các câu hỏi.

- 1) Hình chữ nhật bên dưới có các kích thước 1×10 . Tạo một hình chữ nhật có cùng diện tích, nhưng khác chu vi.



- 2) Hình chữ nhật bên dưới có các kích thước 1×9 . Tạo một hình chữ nhật có cùng diện tích, nhưng khác chu vi.



- 3) Hình chữ nhật bên dưới có các kích thước 4×10 . Tạo một hình chữ nhật có cùng diện tích, nhưng khác chu vi.



- 4) Hình chữ nhật bên dưới có các kích thước 2×6 . Tạo một hình chữ nhật có cùng diện tích, nhưng khác chu vi.



- 5) Hình chữ nhật bên dưới có các kích thước 5×6 . Tạo một hình chữ nhật có cùng diện tích, nhưng khác chu vi.



Câu trả lời

1. _____

2. _____

3. _____



4. _____

5. _____



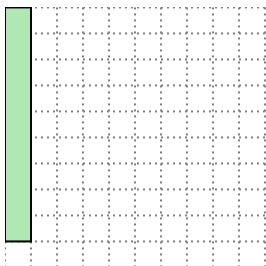
Giải các câu hỏi.

- 1) Hình chữ nhật bên dưới có các kích thước 1×10 . Tạo một hình chữ nhật có cùng diện tích, nhưng khác chu vi.





2×5

- 2) Hình chữ nhật bên dưới có các kích thước 1×9 . Tạo một hình chữ nhật có cùng diện tích, nhưng khác chu vi.




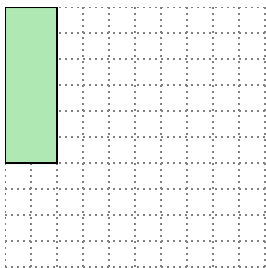
3×3

- 3) Hình chữ nhật bên dưới có các kích thước 4×10 . Tạo một hình chữ nhật có cùng diện tích, nhưng khác chu vi.



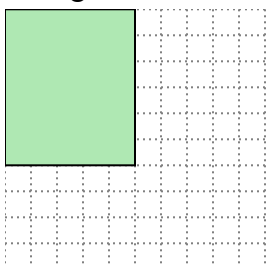
5×8

- 4) Hình chữ nhật bên dưới có các kích thước 2×6 . Tạo một hình chữ nhật có cùng diện tích, nhưng khác chu vi.



3×4

- 5) Hình chữ nhật bên dưới có các kích thước 5×6 . Tạo một hình chữ nhật có cùng diện tích, nhưng khác chu vi.



3×10

Câu trả lời

1. 2×5

2. 3×3

3. 5×8

4. 3×4

5. 3×10