





Sử dụng các sơ đồ dưới đây để tạo một hình chữ nhật với diện tích / chu vi được hiển thị. Mỗi SVGREPLACE = 1 đơn vị (u). Trả lời với chiều dài và chiều cao. Các câu trả lời sẽ khác nhau.


1) Diện tích của hình vuông 30 đơn vị.




2) Chu vi của 38 đơn vị.




3) Diện tích của hình vuông 9 đơn vị.




4) Chu vi của 26 đơn vị.




5) Chu vi của 28 đơn vị.




6) Diện tích của hình vuông 8 đơn vị.




7) Chu vi của 4 đơn vị.




8) Diện tích của hình vuông 24 đơn vị.




9) Diện tích của hình vuông 3 đơn vị.




10) Diện tích của hình vuông 49 đơn vị.



11) Chu vi của 16 đơn vị.



12) Chu vi của 10 đơn vị.




Câu trả lời

- 1. _____ =30u²
- 2. _____ =38u
- 3. _____ =9u²
- 4. _____ =26u
- 5. _____ =28u
- 6. _____ =8u²
- 7. _____ =4u
- 8. _____ =24u²
- 9. _____ =3u²
- 10. _____ =49u²
- 11. _____ =16u
- 12. _____ =10u




Sử dụng các sơ đồ dưới đây để tạo một hình chữ nhật với diện tích / chu vi được hiển thị. Mỗi SVGREPLACE = 1 đơn vị (u). Trả lời với chiều dài và chiều cao. Các câu trả lời sẽ khác nhau.


- 1) Diện tích của hình vuông 30 đơn vị.




- 2) Chu vi của 38 đơn vị.




- 3) Diện tích của hình vuông 9 đơn vị.




- 4) Chu vi của 26 đơn vị.




- 5) Chu vi của 28 đơn vị.




- 6) Diện tích của hình vuông 8 đơn vị.




- 7) Chu vi của 4 đơn vị.




- 8) Diện tích của hình vuông 24 đơn vị.




- 9) Diện tích của hình vuông 3 đơn vị.




- 10) Diện tích của hình vuông 49 đơn vị.



- 11) Chu vi của 16 đơn vị.



- 12) Chu vi của 10 đơn vị.

**Câu trả lời**

1. _____ $=30u^2$
2. _____ $=38u$
3. _____ $=9u^2$
4. _____ $=26u$
5. _____ $=28u$
6. _____ $=8u^2$
7. _____ $=4u$
8. _____ $=24u^2$
9. _____ $=3u^2$
10. _____ $=49u^2$
11. _____ $=16u$
12. _____ $=10u$