





Sử dụng các sơ đồ dưới đây để tạo một hình chữ nhật với diện tích / chu vi được hiển thị. Mỗi SVGREPLACE = 1 đơn vị (u). Trả lời với chiều dài và chiều cao. Các câu trả lời sẽ khác nhau.


1) Diện tích của hình vuông 16 đơn vị.




2) Chu vi của 40 đơn vị.




3) Chu vi của 6 đơn vị.




4) Chu vi của 20 đơn vị.




5) Chu vi của 26 đơn vị.




6) Diện tích của hình vuông 32 đơn vị.




7) Diện tích của hình vuông 7 đơn vị.




8) Diện tích của hình vuông 42 đơn vị.




9) Chu vi của 22 đơn vị.




10) Chu vi của 38 đơn vị.



11) Chu vi của 8 đơn vị.



12) Diện tích của hình vuông 21 đơn vị.




Câu trả lời

1. _____ = $16u^2$
2. _____ = $40u$
3. _____ = $6u$
4. _____ = $20u$
5. _____ = $26u$
6. _____ = $32u^2$
7. _____ = $7u^2$
8. _____ = $42u^2$
9. _____ = $22u$
10. _____ = $38u$
11. _____ = $8u$
12. _____ = $21u^2$




Sử dụng các sơ đồ dưới đây để tạo một hình chữ nhật với diện tích / chu vi được hiển thị. Mỗi SVGREPLACE = 1 đơn vị (u). Trả lời với chiều dài và chiều cao. Các câu trả lời sẽ khác nhau.


- 1) Diện tích của hình vuông 16 đơn vị.




- 2) Chu vi của 40 đơn vị.




- 3) Chu vi của 6 đơn vị.




- 4) Chu vi của 20 đơn vị.




- 5) Chu vi của 26 đơn vị.




- 6) Diện tích của hình vuông 32 đơn vị.




- 7) Diện tích của hình vuông 7 đơn vị.




- 8) Diện tích của hình vuông 42 đơn vị.




- 9) Chu vi của 22 đơn vị.




- 10) Chu vi của 38 đơn vị.



- 11) Chu vi của 8 đơn vị.



- 12) Diện tích của hình vuông 21 đơn vị.

**Câu trả lời**

1. _____ = $16u^2$
2. _____ = $40u$
3. _____ = $6u$
4. _____ = $20u$
5. _____ = $26u$
6. _____ = $32u^2$
7. _____ = $7u^2$
8. _____ = $42u^2$
9. _____ = $22u$
10. _____ = $38u$
11. _____ = $8u$
12. _____ = $21u^2$