





Sử dụng các sơ đồ dưới đây để tạo một hình chữ nhật với diện tích / chu vi được hiển thị. Mỗi SVGREPLACE = 1 đơn vị (u). Trả lời với chiều dài và chiều cao. Các câu trả lời sẽ khác nhau.


1) Diện tích của hình vuông 16 đơn vị.




2) Chu vi của 14 đơn vị.




3) Diện tích của hình vuông 24 đơn vị.




4) Diện tích của hình vuông 20 đơn vị.




5) Chu vi của 36 đơn vị.




6) Diện tích của hình vuông 45 đơn vị.




7) Diện tích của hình vuông 30 đơn vị.




8) Diện tích của hình vuông 27 đơn vị.




9) Diện tích của hình vuông 5 đơn vị.




10) Chu vi của 6 đơn vị.



11) Chu vi của 12 đơn vị.



12) Chu vi của 10 đơn vị.




Câu trả lời

1. _____ = $16u^2$
2. _____ = $14u$
3. _____ = $24u^2$
4. _____ = $20u^2$
5. _____ = $36u$
6. _____ = $45u^2$
7. _____ = $30u^2$
8. _____ = $27u^2$
9. _____ = $5u^2$
10. _____ = $6u$
11. _____ = $12u$
12. _____ = $10u$




Sử dụng các sơ đồ dưới đây để tạo một hình chữ nhật với diện tích / chu vi được hiển thị. Mỗi SVGREPLACE = 1 đơn vị (u). Trả lời với chiều dài và chiều cao. Các câu trả lời sẽ khác nhau.


1) Diện tích của hình vuông 16 đơn vị.




2) Chu vi của 14 đơn vị.




3) Diện tích của hình vuông 24 đơn vị.




4) Diện tích của hình vuông 20 đơn vị.




5) Chu vi của 36 đơn vị.




6) Diện tích của hình vuông 45 đơn vị.




7) Diện tích của hình vuông 30 đơn vị.




8) Diện tích của hình vuông 27 đơn vị.




9) Diện tích của hình vuông 5 đơn vị.




10) Chu vi của 6 đơn vị.



11) Chu vi của 12 đơn vị.



12) Chu vi của 10 đơn vị.



Câu trả lời

1. _____ =16u²
2. _____ =14u
3. _____ =24u²
4. _____ =20u²
5. _____ =36u
6. _____ =45u²
7. _____ =30u²
8. _____ =27u²
9. _____ =5u²
10. _____ =6u
11. _____ =12u
12. _____ =10u